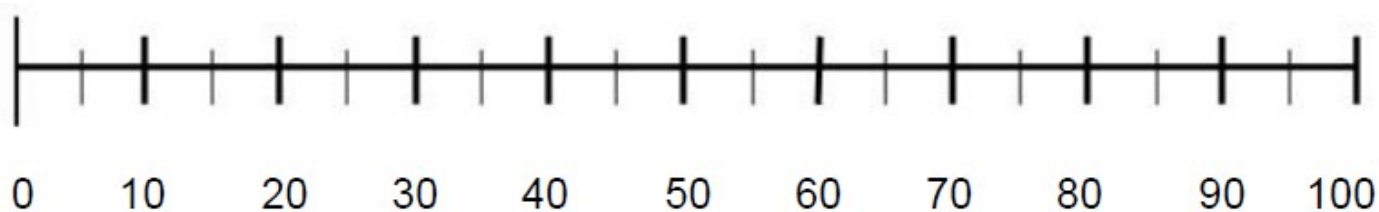


FASIT

1	b
2	c
3	a
4	c
5	b
6	c
7	a
8	b
9	c
10	a
11	b
12	c
13	a
14	b
15	c
16	b
17	a
18	c
19	a
20	b
21	c
22	a
23	b
24	c
25	a



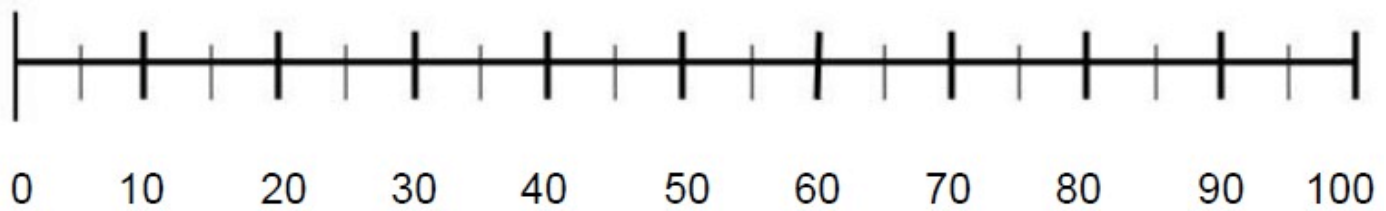
Hva er
nabotallene til 45



- a) 37 og 39
- b) 44 og 46
- c) 54 og 56

2

Hva er
tvillingtallet til 49?



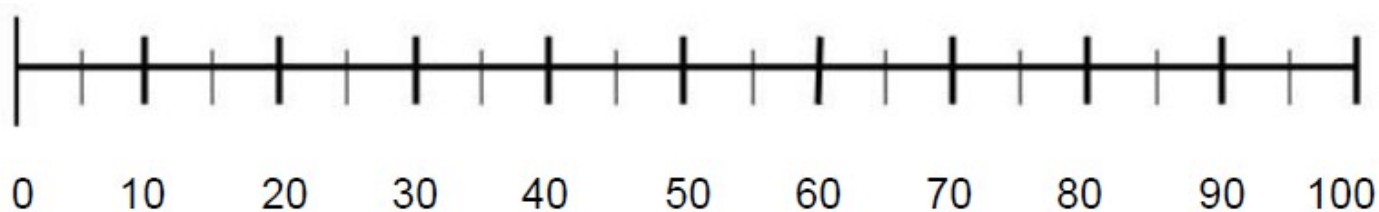
a) 48

b) 48 og 50

c) 94

3

Hva er det
dobbelte av 12?



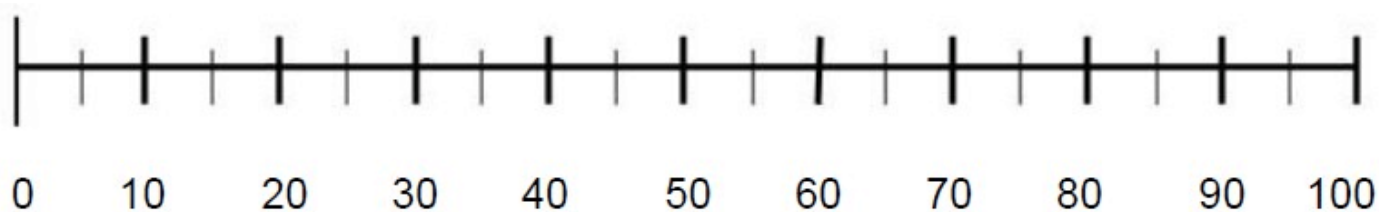
a) 24

b) 21

c) 11 og 13

4

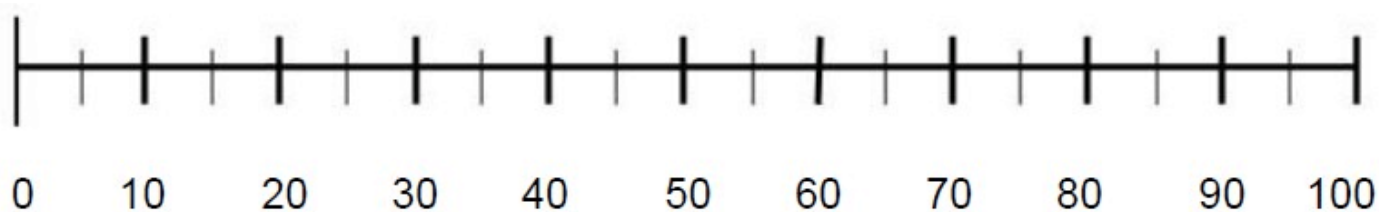
Hvilke av tallene
under har 5 på
tierplass, og 1 på
enerplass?



- a) 50 og 52
- b) 15
- c) 51

5

Hvilke av tallene
under har 4 på
tierplass?



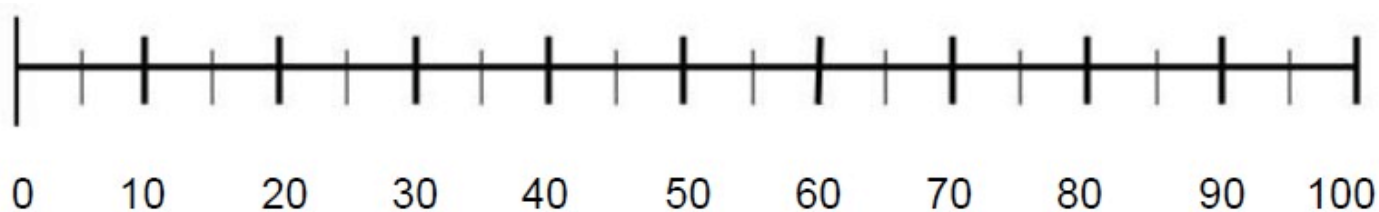
a) 34

b) 49

c) 74

6.

Hvilke av tallene
under har 5 på
enerplass?



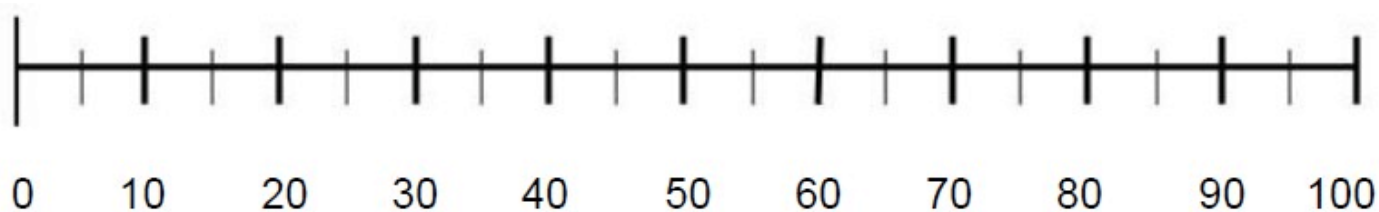
a) 51

b) 4 og 6

c) 15

7

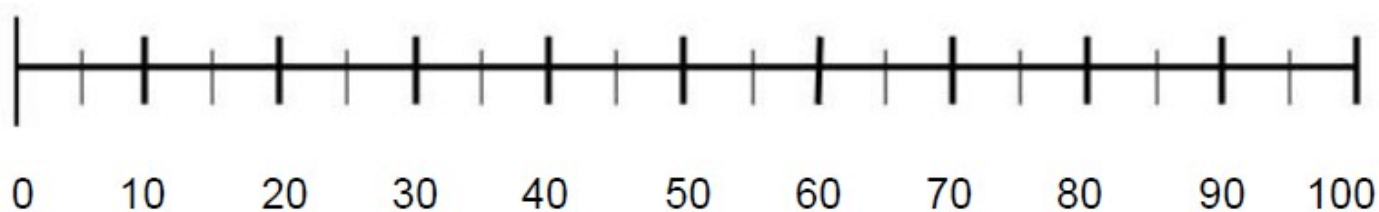
Hva er
nabotallene til
13?



- a) 12 og 14
- b) 31
- c) 31 og 34

8

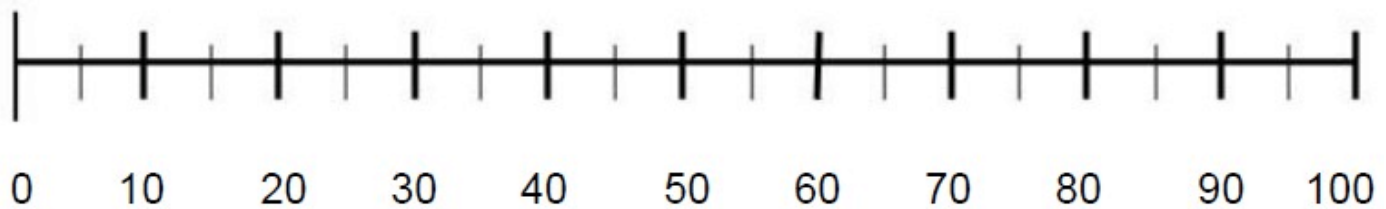
Hva er det
dobbelte av 6?



- a) 3
- b) 12
- c) 66

9.

Hva er
tvillingtallet til 67?



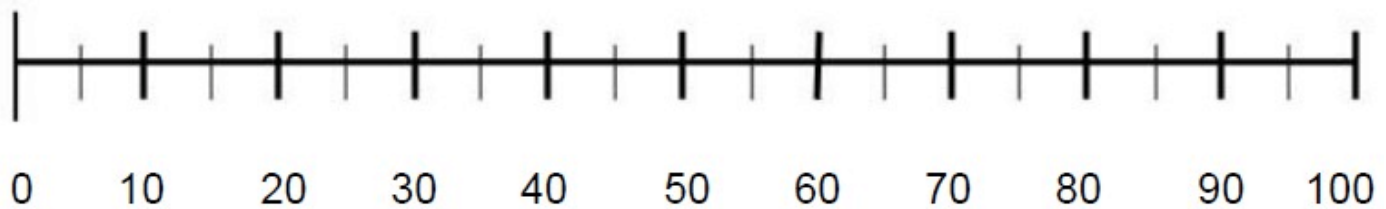
a) 60

b) 66 og 68

c) 76

10

Hva tall er ti mer
enn 15?



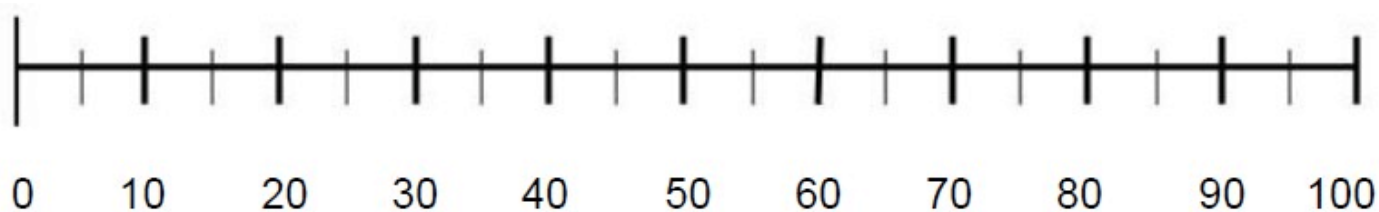
a) 25

b) 51

c) 30



Hva er det
dobbelte av 50?



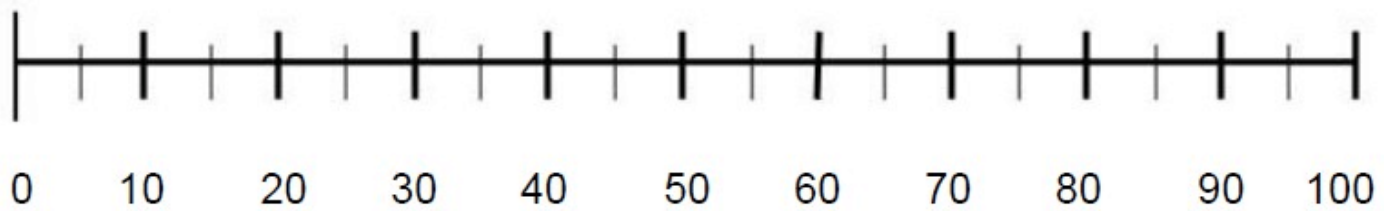
a) 25

b) 100

c) 75

12

Hva er halvparten av 30?



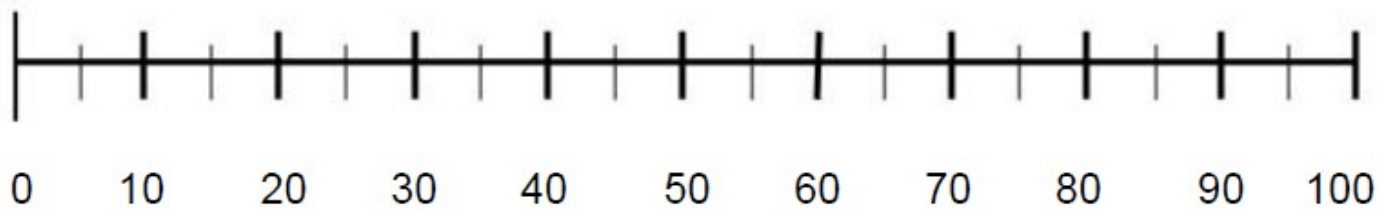
a) 60

b) 29 og 31

c) 15

13

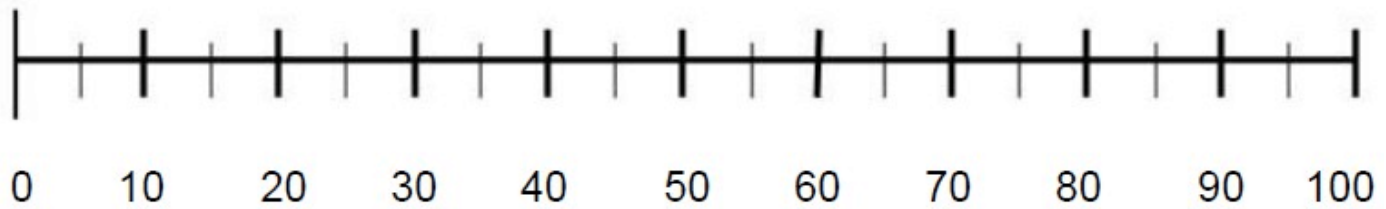
Hva er 10 mindre enn 36?



- a) 26
- b) 46
- c) 63

14

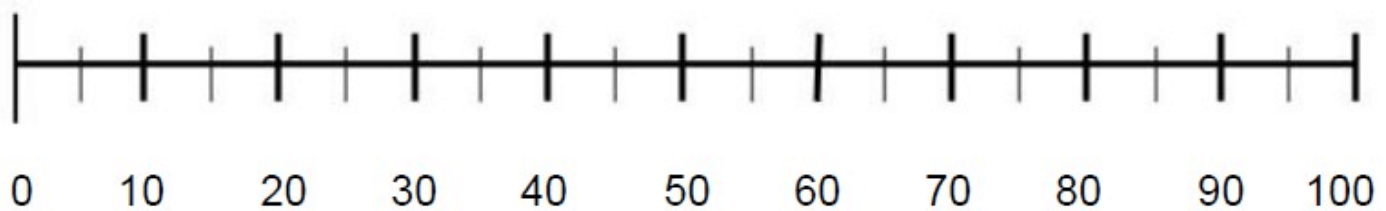
Hva er summen
av $30+5$?



- a) 53
- b) 35
- c) 90

15

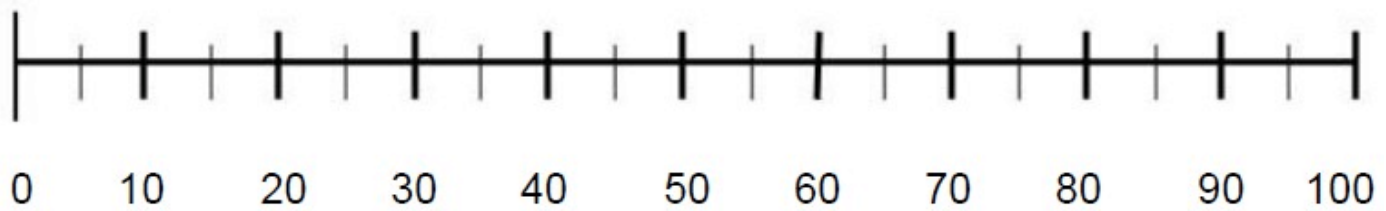
Hvor mange
enere er det i
tallet 89?



- a) 88 og 90
- b) 8
- c) 9

16.

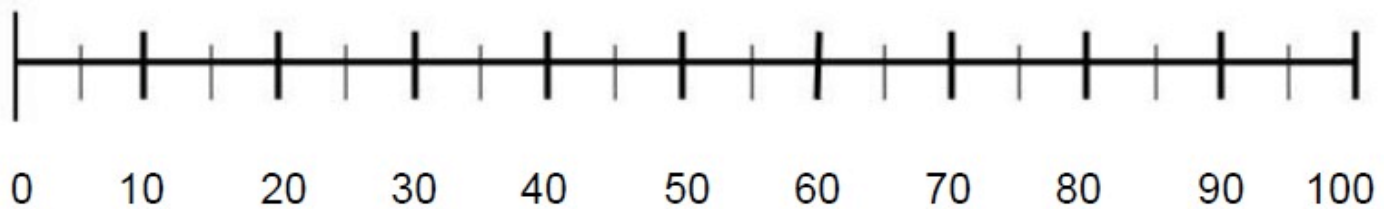
Hva er halvparten av 60?



- a) 30
- b) 59 og 61
- c) 100

17

Hva er det
tvillingtallet til 32?



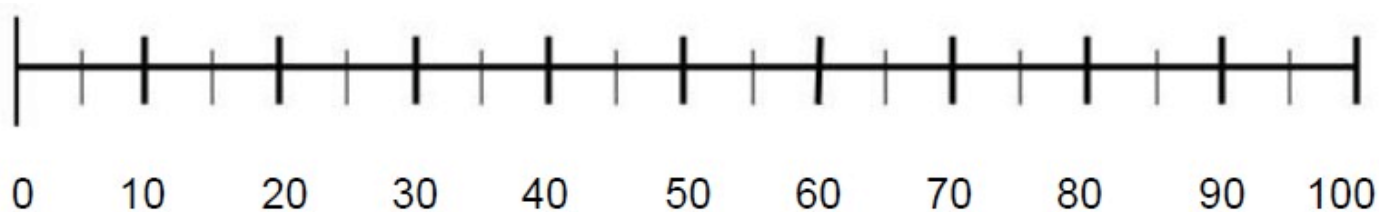
a) 23

b) 3

c) 2

18

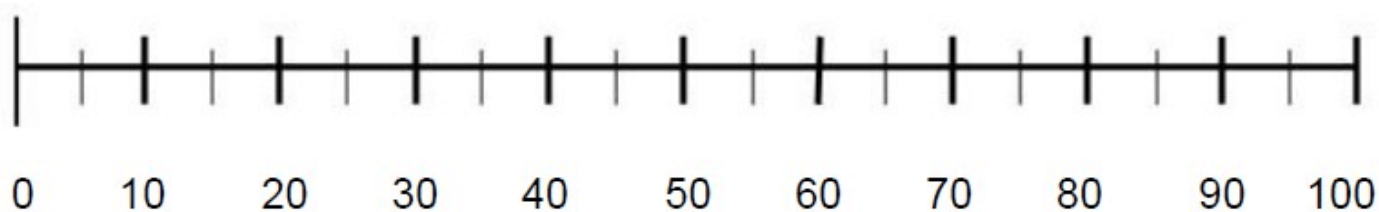
Hva er
nabotallene til
29?



- a) 9
- b) 92
- c) 28 og 30

19.

Hva er det
dobbelte av 20?



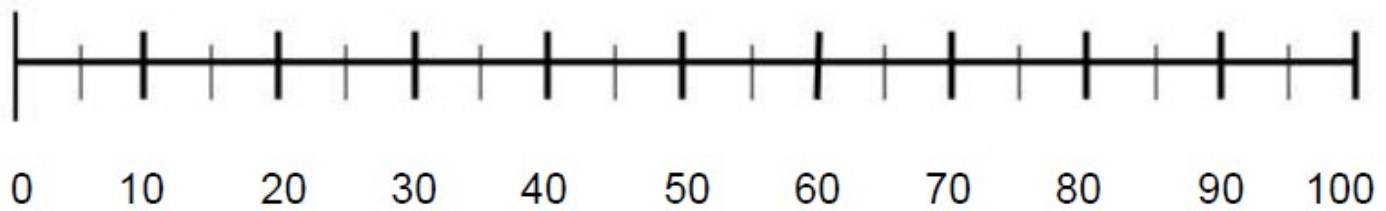
a) 40

b) 50

c) 10

20

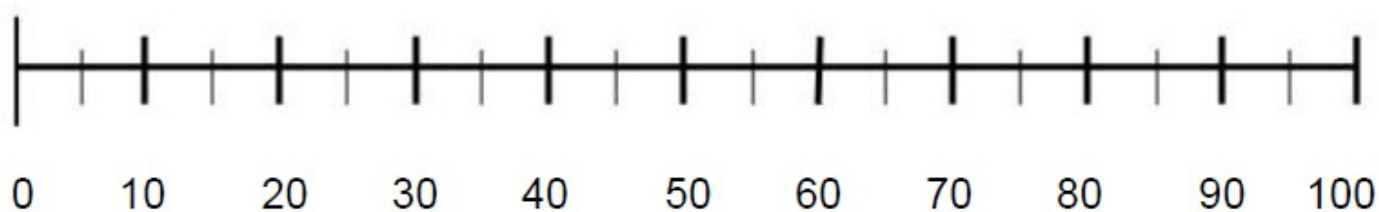
Hvilket siffer står
på tierplass i tallet
49?



- a) 9
- b) 4
- c) 94

21

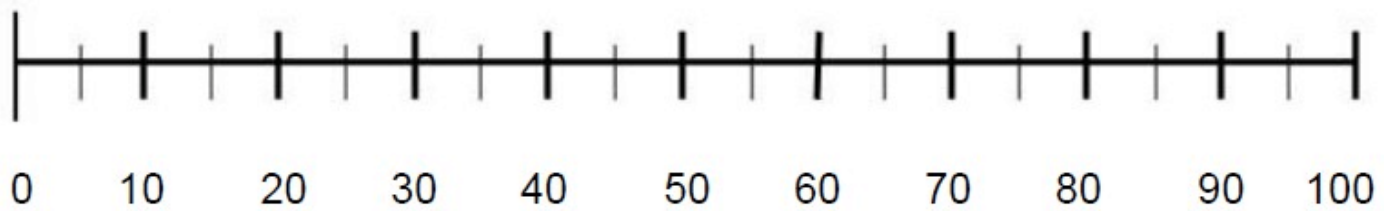
Hva blir
differansen av
 $9-3$?



- a) 94
- b) 12
- c) 6

22

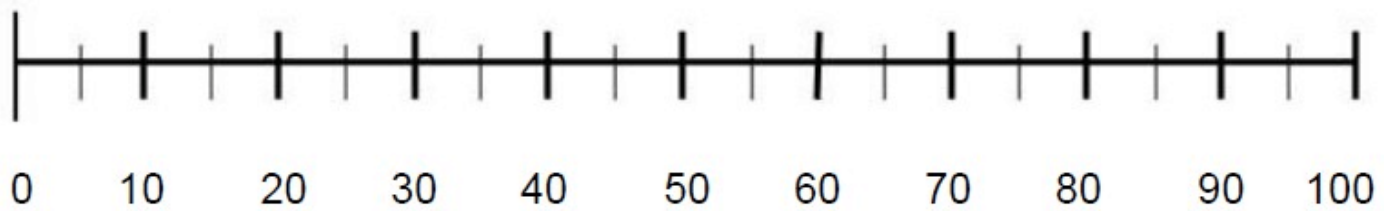
Hva er halvparten av 16?



- a) 8
- b) 61
- c) 32

23

Hva er
tvillingtallet til 78?



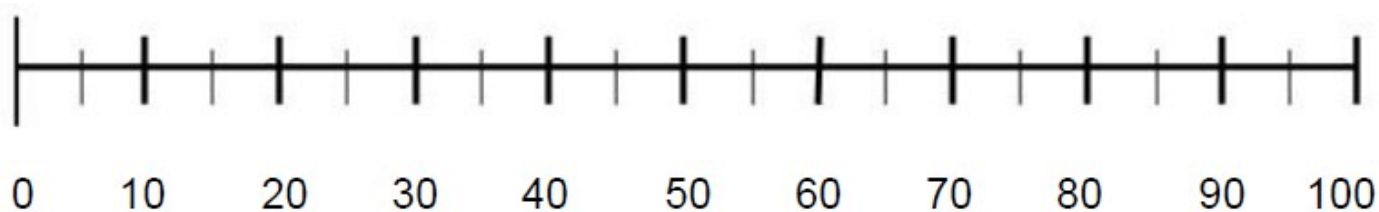
a) 14

b) 87

c) 86 og 88

24

Hva er det
dobbelte av 50?



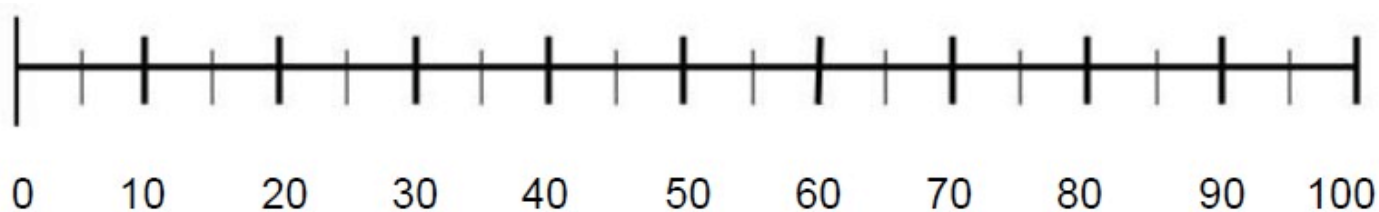
a) 75

b) 25

c) 100

25

Hva blir
differansen av
 $20-5$?



- a) 15
- b) 25
- c) 52