


Gro trakk 4 sifferkort.  
Sifrene var 2, 6, 5 og 7


a) Skriv opp alle tallene Gro kan lage ved hjelp av disse sifrene.

b) Hvor stor er differansen mellom det største og det minste tallet?



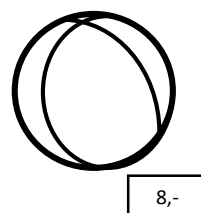
Lars kjøper boka om dyrene. Da mangler han 4,- for å kjøpe ballen

Hvor mange penger har Lars med seg i butikken?




Sondre betaler ballen med 4 mynter.

Hvilke mynter bruker han til å betale med?.



Sara, Eline og Jesper handlet inn til klassefest. Sara handlet for 53,- Eline brukte 103,- og Jesper endte opp med 180,-

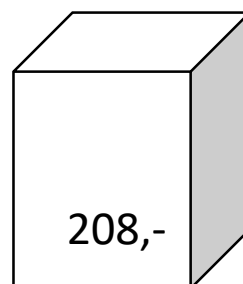


a) Hvor mye kostet festen?

b) De avtalte at alle skulle betale like mye. Hvor mye ble det på hver?

Kai og Daniel sparte penger til skoletur. Kai hadde spart 54,- mer enn Daniel. De hadde spart 208,- til sammen.


Grublis 5



Hvor mange penger har Daniel spart?

Mathilde fikk penger av mamma til 17.mai. Om ettermiddagen hadde hun brukt halvparten av det hun hadde. Så kom bestefar på besøk og ga henne en 50 lapp. Da hadde Mathilde 82,- kroner i lommeboken

Grublis 6



Hvor mange penger fikk Mathilde av mamma?

Jakob trakk 3 sifferkort.  
Sifrene var 1, 6 og 4

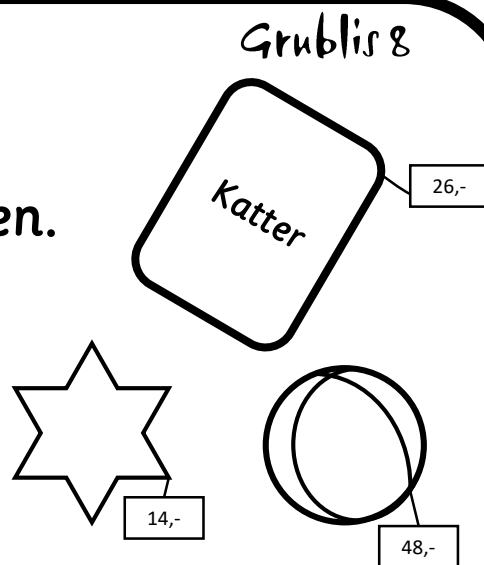
a) Skriv opp alle tallene Jakob kan lage ved hjelp av disse sifrene.

b) Hvor stor er differansen mellom det største og det minste tallet?



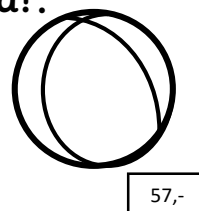
Philip kjøper boka, ballen og stjernen.

Hvor mye penger bruker han?



Mathilde betaler ballen med 3 mynter og en seddel.

Hvilke mynter og hvilken seddel bruker hun til å betale med?




Grublis 10

Nova er veldig glad i kuleis.

En kjeks koster 15,- og hver kule koster 8,-

- a) Hvor mye vil en is med 2 kuler koste?
- b) Hvor mye vil en is med 3 kuler koste?
- b) Hvor mye vil en is med 6 kuler koste?




www.spireserien.no

Grublis 11

Matheo vil kjøpe lekebiler. Han har fått 205,- i bursdagsgave. En bil koster 52,-

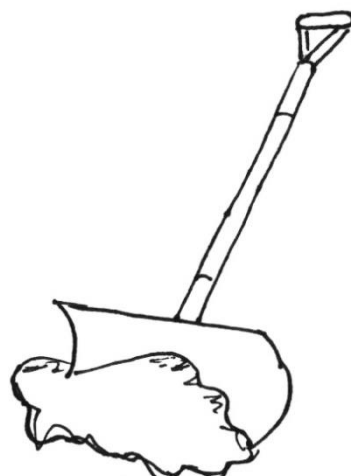
Hvor mange biler kan han kjøpe?



Grublis 12

Maja har fått seg jobb. Hun måker for farmor. Hun får 25,- i lønn hver gang. Maja måker 12 ganger.


Hvor mye må farmor betale Maja?



Grublis 13

Tiril har vært hos tannlegen. Hun har null hull. Mamma gir henne 12,- i belønning. Pappa gir henne det samme. Når bestemor hører dette, gir hun 25,-

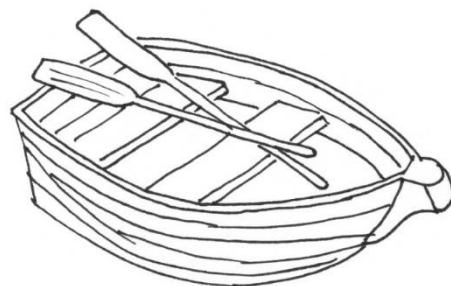
a) Hvor mye får Tiril i belønning?



www.spireserien.no

Grublis 14

Soley ønsker seg en båt. Den koster 2.888,-  
Hun mangler 440,-



Hvor mange penger har Soley spart?

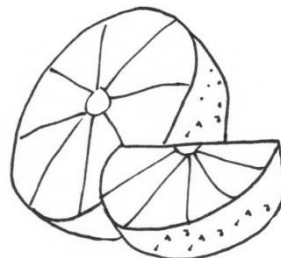
Grublis 15

Matea blir kåret til cupens beste spiller. Hun scorer 13 mål. Klubben gir henne 5,- i premie for hvert mål.

Hvor mye får Matea i premie?



Xander lager appelsinsaft og selger på 17.mai. Han trenger 4 appelsiner for å lage en mugge med saft. Xander selger 12 mugger med saft.



a) Hvor mange appelsiner har Xander brukt?

Ludvig spiller fotball. Laget hans scoret til sammen 4 mål i halvparten av kampene. I de andre kampene ble det 2 mål i hver kamp. I løpet av helgen spilte de 10 kamper



Hvor mange mål ble det tilsammen?

Sjørøveren måtte gå mange skritt for å finne skatten. Det sto at han måtte gå 15 skritt nordover, 7 skritt til høyre, 6 skritt fremover, 4 skritt til siden og 12 skritt bakover.



Hvor mange skritt ble det tilsammen?


Nova og Tiril er barnevakt for lillesøsteren til Nova. De tjener 86,- til sammen.

a) Hvor mye får de hver i lønn?



Gro har vært på loppemarked og kjøpt bøker. Hun betaler 32,- for hver bok. Hun kjøper 6 bøker-

Hvor mye må Gro betale tilsammen?



Bestefar har vært ute og fisket. Han fikk 8 makrell, 4 torsk, 11 sild, 3 flyndrer og 6 sei.

Hvor mange fisk fikk han tilsammen?

