




SpireGro 1

Den lille diplodocusen hadde 12 søsken, men en dag kom allosaurusen og spiste opp 5. Hvor mange var det igjen da?




SpireGro 2

Den lille diplodocusen hadde 14 søsken, men en dag kom allosaurusen og spiste opp 6. Hvor mange var det igjen da?




SpireGro 3

Den lille diplodocusen hadde 15 søsken, men en dag kom allosaurusen og spiste opp 8. Hvor mange var det igjen da?



SpireGro 4



Dinosauren la ett egg hver dag i 1 uke.

Hvor mange egg hadde hun til sammen i redet sitt?


SpireGro 5



Dinosauren la 2 egg hver dag i 1 uke.

Hvor mange egg hadde hun til sammen i redet sitt?

SpireGro 6



Dinosauren la 3 egg hver dag i 1 uke.

Hvor mange egg hadde hun til sammen i redet sitt?



SpireGro 7

Triceratopsen hadde 4 egg i redet sitt.
T-rexen hadde dobbelt så mange.

Hvor mange egg hadde T-rexen?



SpireGro 8

Triceratopsen hadde 16 egg i redet sitt
T-rexen hadde dobbelt så mange.

Hvor mange egg hadde T-rexen?



SpireGro 9

Triceratopsen hadde 19 egg i redet sitt
T-rexen hadde dobbelt så mange.

Hvor mange egg hadde T-rexen?



SpireGro 10

T-rexen hadde 24 egg i redet sitt.

Triceratopsen hadde halvparten så mange.

Hvor mange egg hadde triceratopsen?



SpireGro 11

T-rexen hadde 32 egg i redet sitt

Triceratopsen hadde halvparten så mange.

Hvor mange egg hadde Triceratopsen?



SpireGro 12

T-rexen hadde 46 egg i redet sitt

Triceratopsen hadde halvparten så mange.

Hvor mange egg hadde Triceratopsen?